



Curso: 2°Básico  
Profesora: Angelica Rubilar M.  
Asignatura: Matemática  
Correo: angelica.rubilar@colgiocrisol.cl

## PLANIFICACIÓN DE LA CLASE A CLASE 2° BASICO

(Clase N°20)

### Objetivo de aprendizaje (OA) 18:

- Escribir y realizar la resta vertical

### ACTIVIDAD METODOLÓGICA

#### A. INICIO:

1. Los apoderados leen el objetivo de clase a sus hijos.
2. Los alumnos dicen los números en voz alta de 100 en 100 hasta el 1.000
3. Observan y comentan la página 57 y 58 del texto

#### B. DESARROLLO

- 1.- Escriben en cuaderno de matemática el OA y la fecha
- 2.- Realizan en sus cuadernos lo siguiente ejercicios

Pensemos cómo encontrar los resultados usando la forma vertical.

a)  $34 - 14$


|   |  |  |
|---|--|--|
|   |  |  |
| - |  |  |
|   |  |  |

b)  $68 - 64$

|   |  |  |
|---|--|--|
|   |  |  |
| - |  |  |
|   |  |  |

c)  $48 - 8$

|   |  |  |
|---|--|--|
|   |  |  |
| - |  |  |
|   |  |  |



4. Realizar los ejercicios de la página 59, trabaja en tu texto.

#### C. CIERRE

1. Revisa el trabajo del estudiante.

#### Recuerda:

- Pregúntale a tu hijo/a que parte de la actividad le costó más y que aprendió con los ejercicios
- Incentívalo, dale ánimo o felicítalo/a según el caso



# 5

## La resta en forma vertical



### La resta de números de dos dígitos

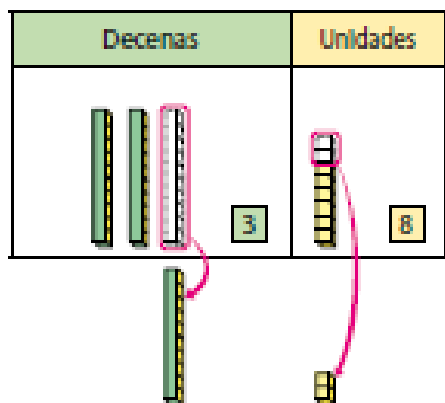
- 1 Emilio y sus amigos recogieron 38 frutillas. Se comieron 12 de ellas. ¿Cuántas quedan?



a) Escribe una expresión.

b) Pensemos cómo restar con la forma vertical, tal como en la suma.

|   |   |   |
|---|---|---|
|   | 3 | 8 |
| - | 1 | 2 |
|   |   |   |



Cómo restar 38-12 usando la forma vertical

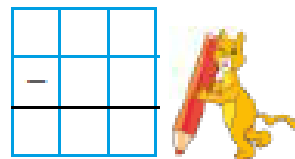
$$\begin{array}{r} 38 \\ - 12 \\ \hline \end{array} \rightarrow \begin{array}{r} 38 \\ - 12 \\ \hline 26 \end{array}$$

$3 - 1 = 2$ 
 $8 - 2 = 6$

Escribe los números en cada columna.

Resta los números en la misma columna.

**2** Resta 29 - 6 usando la forma vertical.

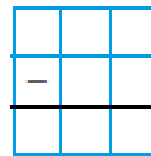
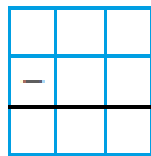
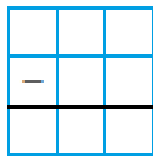


**3** Pensemos cómo encontrar los resultados usando la forma vertical.

a) 34 - 14

b) 68 - 64

c) 48 - 8



**Ejercicio**

Encontremos las respuestas usando la forma vertical.

a) 76 - 32

d) 59 - 45

g) 36 - 24

b) 56 - 40

e) 58 - 5

h) 98 - 18

c) 43 - 42

f) 30 - 20

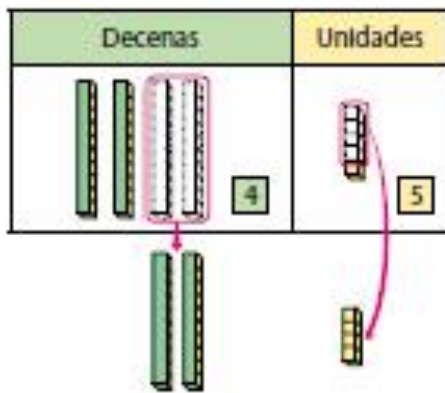
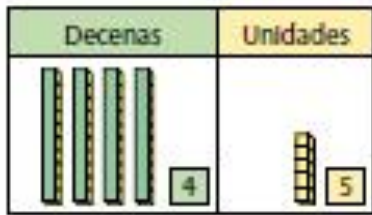
i) 45 - 5



**4** Habían 45 láminas de un álbum. Usé 24 de ellas. ¿Cuántas quedan?

a) Escribe una expresión.

b) Pensemos cómo calcular.



Respuesta:  láminas

**5** Encontramos la respuesta para  $53 - 21$  usando la forma vertical.

|   |  |  |
|---|--|--|
|   |  |  |
| - |  |  |
|   |  |  |



**6** Pensemos cómo restar usando la forma vertical.

a)  $73 - 23$

|   |   |   |
|---|---|---|
|   | 7 | 3 |
| - | 2 | 3 |
|   |   |   |

b)  $36 - 24$

|   |   |   |
|---|---|---|
|   | 3 | 6 |
| - | 2 | 4 |
|   |   |   |